

④ 자기인식

① 의도 ② 가치
③ 규범 ④ 행동

① 이기적 편견 ② 갈라테아 효과
③ 자기성취예언 ④ 골렘 효과

① 높은 일치성, 낮은 특이성, 낮은 일관성 ② 낮은 일치성, 낮은 특이성, 높은 일관성
③ 높은 일치성, 높은 특이성, 낮은 일관성 ④ 낮은 일치성, 높은 특이성, 높은 일관성

[illegible]

- ① MPS = 기능다양성 과업정체성 과업중요성 × 자율성 × 피드백
- ② MPS = 기능다양성 과업정체성 자율성 × 과업중요성 × 피드백
- ③ MPS = 피드백 과업정체성 과업중요성 × 자율성 × 기능다양성
- ④ MPS = 기능다양성 자율성 과업중요성 × 과업정체성 × 피드백

11. 공식집단의 기능 중 조직적 기능에 해당하는 것은?

- ① 근심거리와 불안감 및 무력감을 감소시킨다.
- ② 관계욕구를 충족시킨다.
- ③ 신입사원을 회사에 적응시키고 훈련시킨다.
- ④ 사회현실에 대한 지각을 시험하고 공유할 수 있는 기회를 제공한다.

12. 집단 내에서 동조를 강조하는 압력으로 말미암아 발생하는 심리적 효율성, 도덕적 판단의 악화를 의미하는 것은?

- ① 역할갈등
- ② Asch효과
- ③ 집단사고
- ④ 역할과중

13. 팀 성공의 3대 요소로 옳은 것은?

- ① 신뢰, 역량, 응집력
- ② 역량, 협력, 신뢰
- ③ 신뢰, 협력, 역량
- ④ 협력, 신뢰, 응집력

14. 제한된 정보의 처리, 주먹구구식이거나 손쉬운 방법의 사용, 만족화의 기준이라는 3가지 요소들이 그 주요한 특징인 의사결정 모델은 무엇인가?

- ① 쓰레기통 모델
- ② 합리적 모델
- ③ 규범적 모델
- ④ 비합리적 모델

15. 어떤 인사담당자가 특정 대학교를 졸업한 세 사람을 과거에 채용하였고 그 세 사람이 현재까지 좋은 성과를 냈기 때문에 이번에도 그 대학의 졸업생을 채용하려고 한다. 이 때 이 인사담당자가 사용하고 있는 선발결정의 편견은?

- ① 이용성 편견
- ② 대표성 편견
- ③ 확증성 편견
- ④ 고착화 편견

16. 다음의 설명과 관계 깊은 임파워먼트(empowerment)는?

가장 높은 수준의 임파워먼트로서, 종업원의 능력을 개발하는 동시에 바쁜 관리자의 짐을 덜어주는 방법으로 오랫동안 추천되어왔다.

- ① 위임
- ② 참여
- ③ 자문
- ④ 지배

17. 의사소통매체의 풍요성(고 → 저)의 순서로 옳은 것은?

- ① 대면 → 전화 → 메모 → 게시판 ② 게시판 → 메모 → 전화 → 대면
- ③ 메모 → 게시판 → 전화 → 대면 ④ 메모 → 게시판 → 대면 → 전화

18. 리더행동의 성공여부는 하위자가 준비성 즉, 부하가 어떤 과업을 완수할 능력과 자발성을 보유하고 있는 정도에 달려 있다고 보는 것이 ()이다.

- ① Fiedler의 합상황 모델 ② House의 경로-목표 이론
- ③ 수정된 경로-목표이론 ④ Hersey와 Blanchard의 상황적 리더십 이론

19. 변화에 대한 시스템 모델의 구성요소 중 변화의 표적요소에 속하지 않는 것은?

- ① 조직배열 ② 사람
- ③ 사회요인 ④ 전략계획

20. 조직개발(OD)의 과정으로 옳은 것은?

- ① 진단 → 개입 → 평가 → 피드백 ② 개입 → 진단 → 평가 → 피드백
- ③ 평가 → 진단 → 개입 → 피드백 ④ 평가 → 개입 → 진단 → 피드백

<인적자원의 이해>

21. 인적자원관리의 유효성을 달성하기 위한 두 가지 주요한 목표는?

- ① 효율성과 효과성 ② 효율성과 형평성
- ③ 효율성과 공정성 ④ 효과성과 형평성

22. 인적자원관리자의 중요한 역할 네 가지에 속하지 않는 것은?

- ① 기능 전문가 ② 옹호자
- ③ 서비스 파트너 ④ 비즈니스 파트너

23. 전통적인 종업원관계와 연관된 인적자원기능으로 적합한 것은?

30. 다른 회사가 제공하는 서비스들의 관행을 따라하는 것은?

- ① 전시수요에 대한 임금인상을 정부가 통제하였기 때문
② 조세정책(종업원에게 부가급은 비과세)

- ① 기업에서는 일반적으로 전수조사를 이용하고 있다.
- ② 전수조사는 일반적으로 표본조사보다 더 정확하다.

- ③ 표본조사는 표본프레임에 속한 모든 구성원들을 대상으로 자료를 수집한다.
④ all of the above

43. 시장조사에서 큰 표본크기를 필요로 하는 경우는?

- ① 의뢰인이 높은 신뢰수준을 요구할 때 ② 모집단의 구성원들이 유사할 때
③ 의뢰인이 지불하는 비용이 적을 때 ④ ①과 ②

44. 다음 중 인구통계적 세분변수가 아닌 것은?

- [illegible]

45. 마케팅 용어 중 포지셔닝의 의미에 가장 가까운 것은 다음 중 무엇인가?

- ① 상품의 상대적 진열위치 ② 상대적 시장점유율
③ 소비자들의 지각(마음) 속 위치 ④ 표적시장 선정

46. 표적마케팅의 단계를 순서대로 나열한 것은 다음 중 무엇인가?

<보 기>

1. product positioning 2. market segmentation 3. market targeting

- ① 2 --> 3 --> 1

③ 1 --> 2 --> 3

② 1 --> 3 --> 2

④ 2 --> 1 --> 3

47. 자극과 반응에 대한 결과를 가지고 학습을 설명하는 이론 중 심리학자 Skinner가 주장한 이론은 다음 중 무엇인가?

- ① 인지적 학습이론 ② 식역하 행동이론
③ 고전적 조건화이론 ④ 도구적 조건화이론

48. 구매행동 다섯 단계 중 소비자가 문제를 인식하는 단계에서 마케팅이 수행해야 할 역할로 적절하지 않은 것은?

- ① 기업은 소비자가 당면하고 있는 문제를 소비자조사를 통해서 알아내고 이를 해결하기 위한 제품을 개발하여야 한다.
- ② 기업은 광고 등의 마케팅활동을 통하여 소비자들로 하여금 현재의 상태와 바람직한 상태 사이에 차이가 있다는 것을 깨닫게 해야 한다.
- ③ 자사제품의 높은 인지도의 형성과 경쟁상표가 소비자의 머릿속에 들어오는

④ 기업은 신제품 개발 등의 마케팅활동을 통하여 바람직한 상태 자체를 변경시켜 소비자들로 하여금 욕구를 느끼게 해야 한다.

① 제품(product) ② 교환(exchange)
③ 시장(market) ④ 판매(selling)

54. 프랜차이즈 시스템은 수직적마케팅시스템(VMS)의 형태 중 어디에 해당하는가?

- ① 기업형 ② 계약형
③ 관리형 ④ 전략형

55. K. L. Keller 교수가 주장한 소비자에 기초한 브랜드자산(Customer-Based Brand Equity)의 2대 구성요소는 다음 중 무엇인가?

- ① 브랜드 인지도, 브랜드명 ② 브랜드 슬로건, 브랜드이미지
③ 브랜드 캐릭터, 브랜드 인지도 ④ 브랜드인지도, 브랜드이미지

56. 커뮤니케이션과정에서 발신인으로부터 메시지를 받는 수신인은 기호의 형태로 된 메시지를 자기 나름대로 해석하게 된다. 이 과정은 어느 단계인가?

- ① 기호화(encoding) ② 해독화(decoding)
③ 소음(noise) ④ 반응(feedback)

57. _____는 제조업체가 최종소비자들을 상대로 적극적인 촉진활동을 하여 이들로 하여금 자사제품을 찾게 함으로써, 중간상들이 자발적으로 자사제품을 취급하게 하는 전략이다. 빈 칸에 알맞은 용어는 무엇인가?

- ① 밀기전략(push strategy) ② 끌기전략(pull strategy)
③ 인적판매전략(personal sale) ④ 퍼블리시티(publicity)

58. 다음 중 판매촉진 활동에 포함되는 것은?

- ① 옥외광고(outdoor advertising) ② 공중관계(public relations)
③ 쿠폰(coupon) ④ TV광고(TV ad)

59. 성수기와 비수기에 상이한 가격을 책정하는 것과 같이 서비스의 수요와 공급을 조정하려는 노력은 서비스의 어떤 특성에 대한 대응인가?

- ① 무형성(intangibility) ② 비분리성(inseparability)
③ 소멸성(perishability) ④ 이질성(variability)

60. 기업이 마케팅 중간상을 통해서 해외시장에 진출하는 방법은?

- ① 합작투자 ② 직접투자
③ 라이선싱 ④ 간접수출

<국제경영>

61. 다음 중 글로벌 통화 및 금융시스템의 핵심 참여자가 아닌 것은?

- ① BIS ② WORLD BANK
③ IMF ④ IFRS

62. 미래 일정한 시점에 일정량의 특정 상품을 미리 정한 가격으로 매매하는 것을 무엇이라고 하는가?

- ① 통화스왑 ② 통화옵션
③ 선물계약 ④ 스왑거래

63. 글로벌 기업의 자본예산 중 모회사접근법의 특징으로 볼 수 없는 것은?

- ① 모회사 입장에서 내부수익률이 0을 초과해야 함
② 기대되는 미래 세후 현금흐름을 모회사 주로 활동하는 지역의 통화로 환산
③ 할인율은 비슷한 위험을 지닌 프로젝트의 통화의 변환에는 예측된 현물환율이 트의 요구수익률을 사용
④ 통화의 변환에는 예측된 현물환율이 나 선물환율을 사용

64. 본사에서 자회사로 공급되는 부품 또는 원재료 가격을 조정하는 현금흐름 관리 기법은?

- ① 기업간 신용 ② 이전가격 설정
③ 다자간 네팅 ④ 사내대출

65. 다음 중 정부개입의 방어적인 논리에 해당되지 않는 것은?

- ① 국내 경제 보호 ② 국가안보
③ 유치산업 보호 ④ 국가 전략산업 육성

66. 다음 중 정부의 비관세 장벽에 해당되지 않는 것은?

- ① 규정과 기술표준 ② 외국 기업의 국내 기업 인수제한
③ 현지부품 사용요건 ④ 관세평가제도

- ① 운송비용을 고려하지 못함 ② 정부의 역하를 지나치게 좁게 한정함
③ 국가간 무역장벽의 존재를 간과함 ④ 투입노동비용을 중요시 함

※ 아래의 보기를 보고 문제84-85에 답하시오. 다음은 (주)영남의 20X1년 12월 31일 현재의 재무상태표와 20X2년도의 거래내역이다.

재무상태표						
20X1년 12월 31일 현재						
(주)영남			<단위: 원>			
자산	현금	₩5,500	부채	매입채무	₩17,200	
	매출채권	8,500		기타부채	14,800	
	재고자산	9,200	자본	자본금	29,000	
	선급비용	6,300		이익잉여금	13,500	
	기계장치	15,000				
	토지	30,000				
		₩74,500			₩74,500	

20X2년도 거래 :

- (1) 1/1-12/31 상품(재고자산) ₩12,000 어치를 외상으로 매입하였다.
- (2) 1/1-12/31 원가 ₩10,000인 상품을 ₩18,000에 매출하고 ₩8,000은 현금으로 받고 나머지는 외상으로 하였다.
- (3) 1/1-12/31 매입채무 ₩9,000을 현금으로 상환하였다.
- (4) 1/1-12/31 영업비용 ₩2,500을 현금으로 지급하였다.
- (5) 1/1-12/31 매출채권 ₩7,200을 현금으로 회수하였다.
- (6) 12/31 위의 재무상태표 상 선급비용(선급보험료) 중 ₩2,000은 당기 보험료다.
- (7) 12/31 기계장치에 대한 감가상각비 ₩1,500을 계상하다.

84. 20X2년말 (주)영남의 부채총액은 얼마인가?

- | | |
|-----------|-----------|
| ① ₩33,800 | ② ₩35,000 |
| ③ ₩39,800 | ④ ₩41,000 |

85. 20X2년말 이익잉여금은 얼마인가?

- | | |
|-----------|-----------|
| ① ₩11,500 | ② ₩13,500 |
| ③ ₩15,500 | ④ ₩17,500 |

86. (주)영남은 20X1년 9월 1일 (주)경산화재에 보험을 가입하면서 1년분 보험료 ₩2,400,000을 지급하고 다음과 같이 분개를 하였다.

(차변) 선급보험료 2,400,000	(대변) 현금 2,400,000
----------------------	-------------------

그러나 (주)영남은 20X1년 결산시 동 선급보험료와 관련한 수정분개를 실시하지 않았다. 이로 인한 영향을 올바르게 설명한 것은?

- ① 이익 ₩800,000 과대계상, 자산 ₩800,000 과대계상
- ② 이익 ₩800,000 과소계상, 자산 ₩800,000 과대계상
- ③ 이익 ₩1,600,000 과소계상, 자산 ₩1,600,000 과대계상
- ④ 이익 ₩1,600,000 과대계상, 자산 ₩1,600,000 과대계상

87. 다음은 (주)영남의 20X1년 12월 31일 종료되는 회계연도의 수정전시산표상 보험료, 소모품비 및 임대료계정의 잔액은 각각 ₩240,000, ₩100,000, ₩720,000이었으며, 각 계정에 대한 설명은 다음과 같다.

· 보험료(비용)는 20X1년 9월 1일에 1년분 자동차보험료를 현금지급하면서 계상한 것이다.
· 소모품비(비용)는 소모품을 구입하면서 계상한 것인데, 20X1년 12월 31일 현재 미사용한 소모품은 ₩50,000이다.
· 임대수익(수익)은 20X1년 10월 1일에 4개월분의 임대료를 수령하면서 계상한 것이다.

위의 계정에 대한 결산수정분개로 인하여 20X1년도 이익은 얼마나 증가 혹은 감소하는가?

- ① ₩50,000 감소
- ② ₩40,000 감소
- ③ ₩20,000 증가
- ④ ₩30,000 증가

88. 아래의 보기는 (주)영남의 20X1년도 재무자료이다. 20X1년 중에 자본거래가 없었다고 가정할 경우 20X1년초 자본(*)은 얼마인가?

<보 기>				
20X1년초	자산 ?	부채 800	자본 (*)	
20X1년말	자산 2,000	부채 950	자본 ?	
20X1년도	수익 3,000	비용 3,050		

- ① ₩950
- ② ₩1,000
- ③ ₩1,050
- ④ ₩1,100

89. (주)영남은 20X1년 말에 금고를 실사하여 다음과 같은 자료를 획득하였다. (주)영남의 20X1년말 재무상태표에 표시될 현금및현금성자산은 얼마인가?

- 통 화	₩300,000	- 우 표	₩13,000
- 타인발행약속어음	1,400,000	- 타인발행수표	1,370,000
- 배당금 지급통지표	327,000	- 당좌차월	370,000
- 직원 대여금	100,000	- 120일 만기의 양도성예금증서	140,000

- ① ₩1,670,000 ② ₩1,683,000
 ③ ₩1,997,000 ④ ₩2,150,000

90. (주)영남은 20X1년 12월 31일자로 당좌예금에 대한 은행계정조정표를 작성하려고 한다. 다음 자료를 이용하여 (주)영남의 조정전 장부상 당좌예금 잔액을 계산하면 얼마인가?

(1) 은행예금잔액증명서상의 잔액 ₩50,000
(2) 은행의 예금잔액증명서에는 반영되어 있으나 (주)영남의 장부에 반영되지 않은 금액
- 예금이자수입 ₩3,000
- 부도수표 ₩20,000
(3) (주)영남이 상품 구입대금으로 수표를 지급하였으나 20X1년 12월 31일 현재 은행에서 출금되지 않은 금액 ₩20,000
(4) (주)영남이 20X1년 12월 31일에 은행에 입금하였으나 은행에서 20X2년 1월 3일 입금처리 된 금액 ₩25,000

- ① ₩50,000 ② ₩55,000
 ③ ₩65,000 ④ ₩72,000

91. 다음의 자료에 기초하여 당기 포괄손익계산서에 표시될 매출액을 계산하면 얼마인가?

(1) 판매단가 ₩5,000의 상품 200개를 외상 판매하였다.
(2) 상품판매 시 ₩2,000의 운반비가 발생하였다
(3) 상품 10개를 반품 받았으며, ₩2,500의 에누리를 해주었다
(4) 매출채권 회수 시 ₩2,000의 매출할인을 해주었다.

- ① ₩943,000 ② ₩945,500
 ③ ₩947,000 ④ ₩949,500

92. (주)영남의 20X1년 말 기말재고자산과 관련된 아래의 자료를 이용하여 (주)영남의 20X1년 기말재고자산을 계산하면 얼마인가?

· 20X1년 말 (주)영남의 창고에 보관 중인 기말재고자산 실지재고 조사액:	₩3,000,000
· (주)영남이 타 회사로 위탁하여 발송한 상품 중 아직 판매되지 않은 상품의 원가:	₩800,000
· (주)영남이 FOB도착지인도조건으로 매입하여 아직 도착하지 아니한 상품의 원가:	₩300,000
· (주)영남이 시용판매를 하였으나 아직 매입자가 구매의사표시를 하지 않은 시송품의 원가:	₩500,000
· (주)영남이 FOB도착지인도조건으로 매출하여 배에 선적하였으나 아직 도착하지 않은 상품의 원가:	₩300,000

- ① ₩4,100,000 ② ₩4,300,000
 ③ ₩4,600,000 ④ ₩4,900,000

※ 아래의 보기를 보고 문제93-94에 답하시오. 다음은 상대산업의 재고자산에 관한 기록이다.

<보 기>			수 량	단 가
1월 1일	기초재고		500	₩10
3월 3일	매입		8,000	12
3월 18일	판매		3,000	20
7월 17일	매입		4,000	14
10월 14일	판매		5,000	20

93. 총평균법을 사용할 경우 다음 보기 중 기말재고액으로 기록될 금액으로 가장 근사치는 얼마인가?

- ① ₩56,520 ② ₩62,000
 ③ ₩95,000 ④ ₩100,480

94. 선입선출법(계속기록법)을 사용할 경우 매출원가는 얼마인가?

- ① ₩56,520 ② ₩62,000
 ③ ₩95,000 ④ ₩100,480

95. (주)영남의 20X1년 기말재고자산이 과대계상되는 오류가 발생하였으나 20X2년말 까지도 발견되지 않았다. 이 오류의 영향으로 타당한 것은?

	20X1년도 당기순이익	20X1년말 이익잉여금	20X2년도 당기순이익	20X2년말 이익잉여금
①	과대계상	과소계상	과소계상	과대계상
②	과대계상	과대계상	과소계상	적정계상
③	과소계상	과소계상	과대계상	과대계상
④	과소계상	과소계상	과대계상	적정계상

<회계원리>

96. 다음 중 유형자산에 속하지 않는 것을 고르시오.

- ① 본사사옥
- ② 건설중인자산
- ③ 임대용 건물
- ④ 영업에 사용중인 차량운반구

97. (주)영남은 회사의 여러 부서에서 이용하고 있는 컴퓨터를 신형으로 교체하였다. 구컴퓨터의 장부금액은 ₩20,000(취득원가 ₩80,000, 공정가치 ₩15,000)이다. 컴퓨터 판매회사는 구컴퓨터와 현금 ₩17,000을 지급받는 조건으로 (주)영남의 구컴퓨터를 신컴퓨터로 교환하였다. 동 교환거래로 (주)영남이 인식할 유형자산처분손익은 얼마인가? 단, 동 교환거래는 상업적실질이 있다고 가정한다.

- ① 처분손실 ₩5,000
- ② 처분손실 ₩12,000
- ③ 처분이익 ₩5,000
- ④ 처분이익 ₩12,000

98. (주)영남은 본사사옥으로 사용하기 위하여 건물을 20X1년 9월 1일에 취득하여 정액법에 의해 감가상각을 하고 있다. 내용연수는 15년, 잔존가치는 ₩100,000이다. (주)영남이 동 건물과 관련하여 20X1년 감가상각비로 ₩50,000을 인식하였다면 건물의 취득원가는 얼마로 추정되는가? 단, (주)영남은 감가상각비를 월할 계산한다.

- ① ₩1,550,000
- ② ₩1,850,000
- ③ ₩2,250,000
- ④ ₩2,350,000

103. (주)한국은 20×1년초 타사 발행 사채 A(액면금액 ₩500,000, 액면이자율 연 8%, 유효이자율 10%, 이자 매년말 후급)를 ₩460,000에 취득하고, 이를 '기타포괄손익-공정가치측정금융자산'으로 분류하였다. 사채 A의 20×1년 기말공정가치는 ₩520,000이며, 20×2년초 사채 A의 50%를 ₩290,000에 처분하였다. 사채 A와 관련하여 (주)한국이 인식할 20×1년 평가이익과 20×2년 처분이익은?

- ① 평가이익 ₩54,000, 처분이익 ₩30,000
- ② 평가이익 ₩54,000, 처분이익 ₩57,000
- ③ 평가이익 ₩60,000, 처분이익 ₩30,000
- ④ 평가이익 ₩60,000, 처분이익 ₩57,000

104. 사채의 유효이자율이 표시이자율보다 높으면 이 사채는(의) _____.

- ① 액면가 보다 높게 팔릴 것이다.
- ② 이자지급일에 지급되는 현금이자액은 증가할 것이다.
- ③ 채무상태표상 장부금액은 매년 증가할 것이다.
- ④ 포괄손익계산서상 이자비용은 매년 감소할 것이다.

105. (주)영남은 20X1년 1월 1일에 사채(액면가액 ₩1,000,000, 표시이자율 10%, 만기 20X3년 12월 31일, 이자지급일 매년 12월 31일)를 발행하였다. 사채발생당시 유효이자율이 12%일 때 (주)영남이 사채로 인하여 만기까지 인식하게 되는 총이자비용은? 단, 3기간, 12%, 단일금액 ₩1의 현재가치는 0.7118, 3기간, 12%, 연금 ₩1의 현재가치는 2.4018이다. 그리고 소수점이하는 반올림하라.

- ① ₩287,500 ② ₩300,000
③ ₩325,418 ④ ₩348,020

106. 아래의 자료를 이용하여 재무상태표상 자본총액을 구한다면 얼마인가?

· 자기주식	₩13,000	· 이익준비금	₩118,000
· 주식발행초과금	57,000	· 자기주식처분손실	20,000
· 매도가능금융자산	18,000	· 자 본 금	500,000
· 미교부주식배당금	10,000	· 미지급배당금	20,000

- ① ₩642,000 ② ₩652,000
③ ₩655,000 ④ ₩662,000

107. (주)영남은 주당 액면금액이 ₩5,000인 신주 10주를 주당 ₩4,500에 발행하였다. 신주발행과 관련된 직접비용은 ₩1,000이 발생하였다. 신주발행 전 재무상태표에 주식할인발행차금은 계상되어 있지 않지만 주식발행초과금으로 ₩2,000이 계상되어 있다. 주식발행시 (주)영남이 행하여야 할 회계처리에 대한 설명으로 옳은 것은?

- ① 신주발행을 통해 (주)영남의 자본은 ₩45,000 증가한다.
- ② 신주발행을 통해 (주)영남의 재무상태표상 자본잉여금은 ₩2,000 감소한다.
- ③ 신주발행 전 (주)영남의 재무상태표상 자본금이 ₩1,000,000이었다면, 신주발행 후 (주)영남의 재무상태표상 자본금은 ₩1,044,000으로 변경 된다.
- ④ 신주발행후 재무상태표상 주식할인발행차금은 ₩6,000으로 표시된다.

108. (주)영남의 총발행주식수는 10,000주이고 자본총계는 ₩70,000,000이다. 만약 10%의 주식배당을 선언하였을 경우 이익잉여금과 자본총계는 어떤 영향을 받게 되겠는가?

- | | |
|--------------|-----------|
| ① 이익잉여금 - 불변 | 자본총계 - 증가 |
| ② 이익잉여금 - 감소 | 자본총계 - 불변 |
| ③ 이익잉여금 - 불변 | 자본총계 - 불변 |
| ④ 이익잉여금 - 감소 | 자본총계 - 감소 |

109. 아래의 보기를 보고 답하십시오. 다음은 (주)신라의 자본계정의 요약이다. 20X2년도 중 현금배당 ₩200,000을 선언하고 지급하였다. 20X2년도 당기순이익은 얼마인가?(단, 보통주자본금의 변동은 주식배당에 기인한다.)

<보 기>		
	20X1년말	20X2년말
보통주자본금	₩1,500,000	₩1,650,000
자본잉여금	1,000,000	1,000,000
이익잉여금	2,200,000	2,450,000

- | | |
|------------|------------|
| ① ₩600,000 | ② ₩500,000 |
| ③ ₩450,000 | ④ ₩400,000 |

110. 다음 자료를 이용하여 (주)영남의 20X1회계연도 현금흐름표에 표시될 영업활동으로 인한 현금흐름은 계산하면 얼마인가? 단, 20X1회계연도 (주)영남의 당기순이익은 ₩300,000이었다.

감가상각비	₩30,000	유상증자	₩100,000
유형자산처분이익	₩20,000	매입채무의 증가	₩60,000
사채의 상환	₩50,000	매출채권의 증가	₩20,000

- ① ₩300,000 ② ₩350,000
③ ₩400,000 ④ ₩450,000

<생산운영관리>

111. 다음은 제조업과 서비스업의 차이에 대한 설명이다. 잘못된 것은?

- ① 제조업은 재고를 통해 생산과 수요와의 차이를 조정할 수 있으나 서비스업은 불가능하다.
- ② 서비스업은 수요가 발생하지 않으면 생산능력이 사장되나 제조업은 당장 수요가 없다고 사장되지 않는다.
- ③ 제조업은 품질수준의 설정과 평가가 용이하나 서비스업의 품질은 주관적이며 평판에 따라 좌우되므로 품질평가가 쉽지 않다.
- ④ 제조업은 생산과 마케팅기능을 결합되는 경우가 많으나 서비스업은 두 기능을 명확히 구분하여 별개의 조직으로 운영한다.

112. 다음의 생산운영관리자의 업무 중 시스템 운영 업무에 속하는 것은 무엇인가?

- ① 입지선정 ② 생산용량계획
③ 설비배치 ④ 일정계획

113. 서비스 청사진 (Service Blueprint)에 대한 설명으로 잘못 된 것은?

- ① 고객 행동과 종업원 행위 사이를 구분 짓는 가시선(Visibility Line)이 있다.
- ② 고객 관점의 서비스 혁신 및 개선 도구로서 서비스 설계에 많이 활용된다.
- ③ 프로세스 중심의 서비스 전달 시스템을 설계하기 위한 도구이다.
- ④ 구성요소는 물리적 장치, 고객 행동, 종업원 행위, 백오피스, 지원프로세스 등이 있다.

114. 다음 중 생산시스템의 공정별 중점화 (Process Focus) 전략의 장점이 아닌 것은?

- ① 재공품 재고가 비교적 적다.
- ② 기계설비와 인력의 유용성이 높다.
- ③ 전문화된 감독이 가능하다.
- ④ 기계설비에 대한 투자가 비교적 적다.

115. 생산 운영관리 분야의 최고 경쟁력을 갖춘 기업과 그들의 대표적인 사례의 연결이 잘못된 것은??

- ① 도요타 - Just In Time ② 델컴퓨터 - 프리미엄화
- ③ 월마트 - Cross Docking 물류 ④ 페덱스 - Overnight Delivery

116. 생산운영관리 분야의 최근 추세가 아닌 것은?

- ① 서비스 부문의 성장 ② 생산성 향상
- ③ 글로벌 경쟁의 심화 ④ 제조업의 고용 증가

117. 다음 보기 중 어느 기업의 모범적 품질관리를 위한 품질분임조 (Quality Circle)를 운영할 때 성공요인(Critical Success Factor)가 아닌 것은?

- ① 프로그램을 시작하기 전에 종업원 교육에 충분한 시간을 투자해야 한다.
- ② 팀워크와 상호간의 개방된 의사소통이 이루어져야 가능하다.
- ③ 분임조예의 참여는 모든 구성원이 반드시 의무적으로 가입되어야 한다.
- ④ 운영관리자가 분임조의 회합시간과 운영방안을 위임 받아야 한다.

118. 다음 중 공정의 자동화를 통해 얻을 수 있는 장점이 아닌 것은?

- ① 제품 다양성 확보 ② 균일한 품질
- ③ 열악한 작업환경 극복 ④ 생산의 안정성

119. 컴퓨터화된 자동화를 통해 범용기계들을 연결시키고 기계 공구를 제어하며 자재를 이동시켜 다양한 제품을 소규모 로트로 유연하게 생산할 수 있는 체계를 가리키는 말은 무엇인가?

- ① NC (Numerical Control) ② FMS (Flexible Manufacturing System)
- ③ GT (Group Technology) ④ CIM (Computer Integrated Manufacturing)

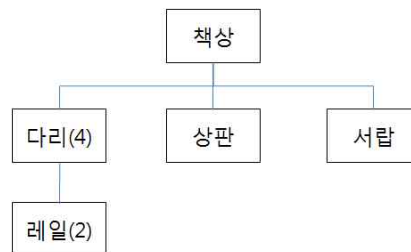
120. 영대타이어제조회사 경산지역 유통센터는 Y21R 타이어 모델의 2013년도 판매량을 9,600개로 예측하였다. 타이어 1단위당 연간 재고유지비용은 16,000원 타이어 주문당 주문비용은 75,000원이라고 한다. 이 유통센터는 1년 중 288일을 근무한다고 할 때 경제적 발주량 (EOQ)은 얼마인가?

- ① 400개 ② 300개 ③ 200개 ④ 100개

121. 다음 중 총괄계획에서 수요변화에 대처하기 위해 사용되는 변수가 아닌 것은?

- ① 신규채용과 해고를 통한 고용수준의 조정
 ② 잔업과 유휴시간에 의한 작업시간의 조정
 ③ 재고 및 추후납품
 ④ 생산설비의 증설과 축소

122. 다음은 책상의 Bill of Material (자재명세서) 자료이다. 현재 재고를 살펴보니 책상은 50개, 다리는 120개, 레일은 80개가 창고에 있다. 현재 시점에 책상의 주문량이 100개라면 레일은 모두 몇 개를 구매해야 하는가? (단, 구매 및 조달 소요일수는 고려하지 않는다.)

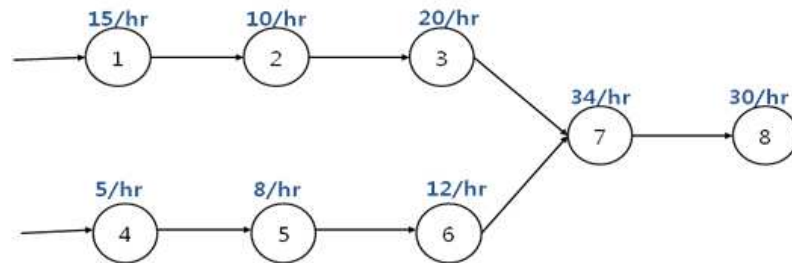


- ① 0개 ② 80개
 ③ 100개 ④ 800개

123. Apple사의 iPhone, iPad 제품은 주로 중국 심천의 Foxconn이라는 세계 최대의 공장에서 대부분 생산되고 있다. 이와 같은 전자산업 분야에서 제조전문 아웃소싱업체를 가리키는 용어는 무엇인가?

- ① 3PL - Third Party Logistics
 ② EMS - Electronics Manufacturing Service
 ③ SPA - Speciality retailer of Private label Apparel
 ④ OEM - Original Equipment Manufacturer

124. 아래 그림과 같이 8개의 세부 공정으로 이루어진 생산 시스템이 있다. 해당 공정별 숫자들은 시간당 공정별 최대 생산량을 나타낸다고 한다. 전체 시스템의 최대용량 (Maximum Capacity)은 얼마인가?



- ① 30 ② 20
③ 15 ④ 5

125. 기존의 재고관리의 문제점을 해결하기 위하여 보충주문에 대한 관리와 실행을 공급업체가 직접 수행하고 재고의 소유권을 판매 또는 최종 조립 시점까지 공급업체가 가지는 방식을 무엇이라고 하는가?

- ① VMI (Vendor Managed Inventory) ② FGI (Finished Goods Inventory)
③ WIP (Work In Process) ④ ROI (Replenishment Owner Inventory)

126. 기본적인 경제적 주문량(EOQ: Economic Order Quantity) 모형에 대한 설명 중에서 가장 적절하지 않은 것은?

- ① 다른 조건이 일정할 때 주문 비용이 감소하면 EOQ는 감소한다.
- ② 다른 조건이 일정할 때 연간 수요가 증가하면 EOQ는 감소한다.
- ③ EOQ는 연간 재고유지비용과 연간 주문비용이 같아지는 1회 주문량이다.
- ④ EOQ는 연간 재고유지비용과 연간 주문비용의 합인 연간 총재고비용을 Q (1회 주문량)에 대해 미분한 뒤 0으로 놓고 Q 에 대해 풀면 구할 수 있다.

127. 제품의 성능요건과 고객의 요구를 가능한 최소의 비용으로 충족시키는 것을 목적으로 불필요한 기능이나 비용이 많이 드는 기능을 제거함으로 달성해 가는 제품혁신의 방법은 다음 중 어느 것인가?

- ① 동시공학 ② 품질기능전개
③ 가치공학 ④ 모듈러 설계

128. 공급사슬 구성 요소인 공급자, 생산자, 유통업자 및 소비자간 주문의 크기가 시간에 따라 그리고 공급사슬의 하류(Down-stream)에서 상류(Up-stream)로 갈수록 큰 차이를 보이는 현상을 무엇이라고 하는가?

- ① 왜곡효과 ② 굴절효과
③ 채찍효과 ④ 역류효과

129. 어떤 제품에 대한 수요예측과 실제 수요 간의 예측 오차 (forecasting error)가 4개의 기간에 대해 5, 0, -4, 3 로 얻어졌을 때, MAD (Mean Absolute Deviation)는 얼마인가?

- ① 4 ② 3 ③ 2 ④ 1

130. 다음의 수요예측 기법 중 경영자, 판매원, 소비자 등으로 모임을 구성하여 자유롭게 의견을 제시하여 예측하는 기법은 무엇인가?

- ① 패널동의법 ② 시장조사법
③ 역사적 유추법 ④ 텔파이법

<경영정보시스템론>

131. 단순한 효율성 차원을 넘어 정보기술을 경쟁 무기로 활용하여 경쟁 기업을 약화시켜 경쟁 우위를 확보하기 위한 목적으로 이용되는 정보시스템 유형은?

- ① 전문가시스템(ES) ② 중역정보시스템(EIS)
- ③ 전략정보시스템(SIS) ④ 의사결정지원시스템(DSS)

132. 다음의 열거한 시스템들의 공통적인 업무관리 영역은?

- Wal-Mart의 지속 재고보충시스템
- Dell 컴퓨터의 주문조립시스템
- BHI의 무재고 및 주문시스템

- ① 전사적자원관리 ② 공급사슬관리
③ 고객관계관리 ④ 지식경영관리

133. 아래에서 설명하는 내용은 무엇인가?

단순히 그 기업이 잘하는 활동을 의미하는 것이 아니라 경쟁기업에 비하여 훨씬 우월한 능력, 즉 경쟁우위를 가져다주는 기업의 능력으로서, 보다 우수한 수준으로 고객에게 만족을 제공할 수 있는 기업의 힘을 말한다.

- ① 시너지 효과 ② 정보제휴
③ 품질향상 ④ 핵심역량

134. 다음 보기 중 가상사설망(Virtual Private Network)의 설명으로 적절하지 않은 것은?

- ① 사설망 보다 비용이 저렴 ② 인터넷망 전송보다 속도가 빠름
③ 터널링(tunneling) 기법 사용 ④ 송수신 컴퓨터간 인증 필요

135. TPS의 특징과 관계가 없는 것은?

- ① 주로 종업원이나 하위경영층이 사용함
- ② 경영자의 의사결정을 지원함
- ③ 가장 기본적인 시스템임
- ④ 다른 유형의 정보시스템을 위한 데이터를 제공

136. MIS의 특징과 관계가 없는 것은?

- ① 문제인식을 위한 정보를 제공 ② 주기적 보고서의 제공
- ③ 상호작용적인 인터페이스 ④ 구조적 의사결정을 지원

137. 근거리통신망(LAN)과 관계가 없는 것은?

- ① 버스형과 스타형을 주로 사용
- ② 통신망의 소유권이 해당 조직에 있음
- ③ 300-500M 이내 비교적 가까운 거리에 있는 컴퓨터를 연결
- ④ Ethernet이 대표적인 종류임

138. 데이터베이스 사용시 장점이 아닌 것은?

- ① 데이터의 중복성 및 불일치 제거 ② 처리속도의 상승
③ 유연성의 증대 ④ 운영비용 감소

139. SDLC방식의 특징과 관계가 없는 것은?

- ① 시스템 개발의 전 과정을 몇 개의 단계로 나눔

145. 기업의 의사결정 프로세스를 지원하기 위해 다양한 데이터 원천으로부터 과거에서 현재에 이르기까지의 전사 데이터를 주제별로 통합하고 요약하여 수집해 놓은 데이터 저장소를 무엇이라고 하는가?

- ① 전문가시스템(ES) ② 중역정보시스템(EIS)
- ③ 전략정보시스템(SIS) ④ 의사결정지원시스템(DSS)

<인터넷 비즈니스>

151. 전자상거래의 특성이 아닌 것은?

- ① 대량생산/대량소비에 적합 ② 글로벌 접근성
- ③ 상호작용성 향상 ④ 정보밀집도 증가

152. 전자상거래 비즈니스 모델의 주요 구성요소가 아닌 것은?

- ① 가치제안 ② 수익모델
- ③ 시장기회 ④ 경쟁전략

153. e-비즈니스 마케팅의 장점이 아닌 것은?

- ① 고객과 단방향 커뮤니케이션에 의한 마케팅
- ② 시공간의 제약 극복 가능
- ③ 광고의 효과측정이 용이
- ④ 표적집단에 대한 접근이 용이

154. e-CRM의 등장배경이 아닌 것은?

- ① 공급자위주의 시장에서 고객위주의 시장으로 전환
- ② 고객접점 채널의 인터넷 일원화
- ③ 다량의 데이터 수집, 보관 및 분석이 가능
- ④ 글로벌라이제이션의 확산으로 범세계적인 경쟁시대 대두

155. 다음은 무엇을 설명한 것인가?

기존의 특정부문의 한정된 업무영역만을 목표로 하는 부문 최적화에서 기업내 전 업무지원과 공급망관리, 고객관계관리, 제품데이터관리 등에 대한 자원 최적화를 위한 경영활동을 말한다.

- ① CRM ② SCM
- ③ MRP ④ ERP

156. 아래에 설명한 인터넷 정보기술은 무엇인가?

계량적인 기법 또는 기계학습 알고리즘을 이용하여 고객에 관련된 대용량의 데이터에 숨어있는 데이터간의 관계 및 패턴을 탐색하고 모형화하는데 사용되는 e-CRM 기술이다.

- ① 데이터마트 ② 웹로그 분석
③ 데이터웨어하우스 ④ 데이터마이닝

157. 정보의 축적과 발신 기능을 가진 칩 형태의 비 접촉성 정보전달 매체로서 최근 물류 유통분야의 효율화에 많이 이용되는 정보기술은 무엇인가?

- ① Bar Code ② Smart Card
③ Work Flow ④ RFID

158. 다음 중 인터넷에서 사용되는 주 프로토콜은 무엇인가?

- ① NCP
- ② TCP/IP
- ③ SNA
- ④ IPX/SPX

159. 다음 중 인터넷에서 웹 페이지 파일들을 전달하는데 사용되는 프로토콜은 무엇인가?

- ① NCP ② TCP/IP
③ HTTP ④ URL

160. ebay.com은 주로 어떤 유형의 전자상거래를 하고 있다고 할 수 있는가?

- ① B2C ② B2B
③ C2C ④ G2C

161. 암호화 방식 가운데 공개키(public key)와 개인키(private key)를 동시에 사용하는 방식은 무엇인가?

- ① 대칭형 암호화 ② 개인키 암호화
③ 비밀키 암호화 ④ 비대칭형 암호화

162. 인터넷 관련 기술과 통신규약을 이용하여 조직내부의 업무를 통합하는 정보시스템을 무엇이라 하는가?

- ① 인트라넷 ② 엑스트라넷
③ 그룹웨어 ④ 기업포털

163. 구매자가 특정 물품에 대해 구매 조건을 제시하고 다수의 공급자들이 입찰에 참여하여 최저 가격에 낙찰되는 형태의 거래방식으로 대표적으로 priceline.com이 이 방식을 채택하고 있다. 이를 무엇이라 하는가?

- ① 경매 ② 역경매
③ 공동구매 ④ 교환(exchange)

164. _____은(는) 인터넷 상에서 다수의 공급자와 구매자가 거래를 이룰 수 있도록 해주고 경우에 따라서는 구매자가 찾는 제품을 공급하는 공급자를 찾아주거나 공급자가 제공하는 제품을 구매하기 원하는 구매자를 찾아주는 역할도 수행한다.

- ① 인터넷 경매 ② e-retailer
③ e-marketplace ④ e- shopping mall

165. Amazon.com이 협약을 하고 와인 동호회 웹사이트에 Amazon의 로고를 게시하고 와인 동호회 사이트를 방문하는 사람 가운데 와인 관련 책을 구입하기를 원하는 사람이 Amazon 로고를 클릭하면 Amazon.com의 웹사이트로 들어가게 되고 거기서 책을 구입하면 Amazon.com은 그 와인 동호회에 책값의 일정 비율을 커미션으로 지불하는 형태의 마케팅 형태를 무엇이라고 하는가?

- ① viral marketing ② permission marketing
③ e-mail marketing ④ affiliate marketing

166. 디지털 경제의 주요 특징이 아닌 것은?

- ① 네트워크화 ② 물리적 거래비용의 축소와 행태적 거래비용의 증가
③ 선순환 효과 ④ 제조역량의 중요성 증대

167. 무선 LAN 기술에서 발전한 4세대 이동통신 기술은?

- ① WAP
 - ② LTE
 - ③ Wi-Fi
 - ④ Wibro(Wi-Max)

168. 전자상거래 고객서비스의 개인화와 가장 관련성이 적은 기술은?

- ① Data Mining ② Streaming technology
③ Cookies ④ Artificial Intelligence

169. 전송되는 과정에서 메시지가 변경되지 않았다는 점을 확인할 수 있도록 해주는 기법은?

- ① hash function
- ② digital envelops
- ③ digital signature
- ④ integrity

170. 인터넷의 마케팅적 가치와 가장 관련이 없는 것은?

- ① 익명성 ② 상호작용성
③ 유연성 ④ 측정가능성

<재무관리>

171. 다음 중 재무관리에 대한 내용으로 타당하지 않은 것은?

- ① 기업의 자금조달과 운용을 다루는 분야이다.
- ② 기업의 자금조달과 운용의 원칙은 자금조달 비용을 최소화 하는 한편 자금운용 수익은 최대화해야 한다.
- ③ 기업의 마케팅과 생산, 인사 기능은 재무적인 의사결정과 무관하다.
- ④ 재무관리의 주요 내용으로 운전자본관리와 같은 단기재무관리와 자본구조와 같은 장기재무정책의 문제가 있다.

172. H인쇄소는 새로운 프린터를 구입하는 것을 고려 중이다. 세후 현금흐름의 예측치는 다음과 같다.

- | | |
|---------------|---------------|
| 첫해 10,000원 투자 | 첫째해 4,000원 유입 |
| 둘째해 4,000원 유입 | 셋째해 3,000원 유입 |
| 넷째해 3,000원 유입 | |

H인쇄소의 프린터 구입 투자안의 자본회수기간은 얼마인가?

① 2(1/3)년

② 2(2/3)년

③ 2년

④ 3년

173. 자산 100억원이고 부채가 없는 기업이 50억원을 부채로 자금을 조달 후 이 자금으로 주식을 재매입하여 소각하였다. 이 때 발생하는 현상으로 타당한 것은?

- ① 영업레버리지 효과에 따라 영업이익의 변동성이 감소한다.
- ② 영업레버리지 효과에 따라 영업이익의 변동성이 증가한다.
- ③ 재무레버리지 효과에 따라 주당이익의 변동성이 감소한다.
- ④ 재무레버리지 효과에 따라 주당이익의 변동성이 증가한다.

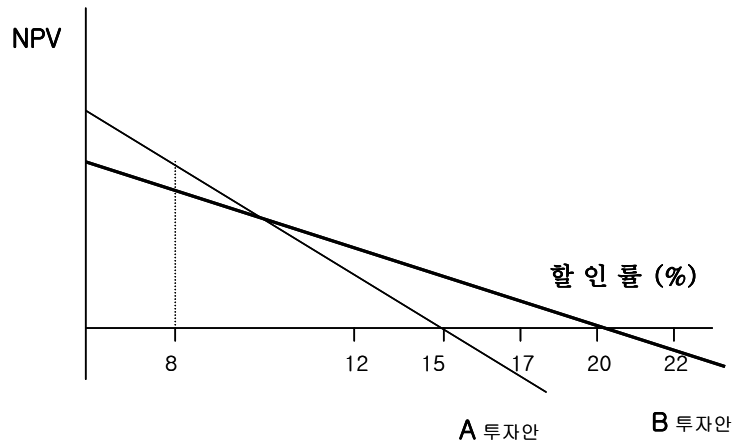
174. 다음 중 미래가치의 성질에 대한 설명으로 타당하지 않은 것은?

- ① 이자율이 정(+)의 값을 갖는 한 미래가치는 항상 현재가치보다 크다.
- ② 이자율이 높을수록 미래가치는 커진다.
- ③ 투자기간이 길면 길수록 미래가치는 증가한다.
- ④ 할인율이 양(+)인 한 현재가치는 미래가치보다 항상 크다.

175. 이자율 8% 3기간에 대한 복리이자요소(CVIF)는 1.2597이고 연금의 복리이자요소(CVIFA)는 3.2464이며 현재가치요소(PVIF)는 0.7938, 연금의 현재가치요소(PVIFA)는 2.5771이다. 다음 중 타당하지 않은 것은?

- ① 3년 후 1,259.7만원을 현재가치로 환산하면 1,000만원이다.
- ② 지금부터 매년 초 1,000만원씩 3년간 분할 상환하는 금액을 3년 후 상환한다면 3,246만원이 적정한 금액이다.
- ③ 3년 후 1,000만을 현재가치로 환산하면 793.8만원이다.
- ④ 매년 말 1,000만원씩 3년간 분할 상환하는 금액을 오늘 일시불로 상환한다면 2,577.1만원이 적정한 금액이다.

176. 상호배타적인 A, B 두 투자안은 할인율 변화에 따라 순현재가치가 다음의 그림과 같이 변한다. 두 투자의 위험은 같고 이 투자의 적정 할인율이 8%라면 NPV법과 IRR법에 의하면 어떠한 투자가 선택되는가?



- ① NPV법 A안, IRR법 A안 ② NPV법 A안, IRR법 B안
- ③ NPV법 B안, IRR법 A안 ④ NPV법 B안, IRR법 B안

177. 다음 중 내부수익률법에 대한 설명으로 타당하지 않은 것은

- ① 화폐의 시간가치를 반영하고 있다.
- ② 내부수익률이 큰 사업안은 항상 가치 면에서 이득을 극대화하는 사업이다.
- ③ 복수의 내부수익률이 존재할 수 있다.
- ④ 사업년도 말까지 중도 현금흐름을 내부수익률에 재투자할 수 있다고 가정하므로 지나치게 낙관적인 전망에 기초하고 있다.

178. A기업의 자기자본비용이 20%이고 부채의 자본비용이 10%이다. 그리고 전체 기업가치 대 부채비율은 50%이다. 이러한 상황에서 이 기업에 잉여현금흐름(FCFF)이 1억5,000만원씩 무한대로 발생한다면 시장은 완전자본시장이고 이자의 면세효과가 없다는 가정하에서 이 기업에 대한 전체 기업가치는 얼마인가? (영구현금흐름의 현재가치 공식 이용)

- ① 10억원 ② 15억원
- ③ 20억원 ④ 25억원

179. 만일 앞의 문제에서 이 기업이 부채비율을 80%로 높인다면 이 기업의 자기자본비용과 가중평균자본비용은 어떻게 변하는가?

- ① 자기자본비용 불변, 가중평균자본비용 불변
- ② 자기자본비용 불변, 가중평균자본비용 증가
- ③ 자기자본비용 증가, 가중평균자본비용 불변
- ④ 자기자본비용 증가, 가중평균자본비용 증가

180. 다음 중 배당의 증가에 따라 주주에게 이득이 발생하지 않는 경우는?

- ① 개인소득세율이 높은 주주의 대부분을 구성하고 있다.
- ② 경영자는 앞으로 기업의 이익이 많아질 것으로 예상하고 있으니 외부주주는 그러한 내용을 잘 모르고 있다.
- ③ 기업이 차기의 투자금액에 비하여 과도하게 많은 현금을 보유하고 있다.
- ④ 주주의 상당수가 퇴직자 등 연금으로 생활하는 사람이다.

181. 다음 중 인수합병(Merger & Aquisition)으로 주주에게 실질적인 이득이 발생하는 경우가 아닌 것은?

- ① 두 기업을 합병함으로써 시너지효과가 발생한다.
- ② 두 기업을 합병함으로써 규모의 경제에 의해 비용을 절감할 수 있다.
- ③ 저평가 기업을 발굴, 인수하여 효율성을 개선할 수 있다.
- ④ 다른 기업을 합병함으로써 합병추진기업이 주당이익을 개선할 수 있다.

※ 홍길동은 두 종류의 사업 중 한 종류를 선택하여 투자하려고 한다. 각 사업의 예상현금흐름은 다음과 같다.

	당해년도	1년차	2년차	3년차
사업 A	-300백만	120백만	144백만	172.8백만
사업 B	-300백만	180백만	121백만	133.1백만

182. 각 사업의 내부 수익률을 구하라.

- ① 12.5%, 15%
- ② 15%, 17.5%
- ③ 17.5%, 20%
- ④ 20%, 22.5%

183. (주)합동자동차는 새로운 판매전략을 수립하였다. 인도금 없이 50개월간 연리 12%로 할부 납부하면 정가에서 10% 할인된 가격으로 자동차를 살 수 있다. 현재 ₩20,000,000 정가인 차종을 이 방법으로 매입할 경우 매달 할부금은 얼마인가?

- ① 약 ₩460,000
- ② 약 ₩420,000
- ③ 약 ₩380,000
- ④ 약 ₩360,000

184. 포트폴리오 P는 세 개의 자산으로 구성되어 있다. 포트폴리오에 포함된 각 자산의 비중은 같으며 각 자산의 베타는 0.6, 1.2, 1.8이다. 이 포트폴리오 P의 베타는 얼마인가?

- [illegible]

185. 회사형 투자 신탁(뮤추얼펀드)에 대한 다음의 설명 중 가장 어울리지 않은 것은?

- ① 투자 상품으로 기본적으로 원금 보전이 되지 않을 수 있다.
- ② 펀드 매니저의 과거 운용 실적과 투자 전략 및 펀드 성격이 매우 중요하다.
- ③ 중도 환매가 가능하다.
- ④ 전문적 자산 운용사에서 투자를 실시한다.

186. 포트폴리오를 구성하여 위험을 분산하려고 한다. 이에 대한 설명으로 가장 적당하지 않는 것을 고르시오.

- ① 포트폴리오의 위험은 구성종목수가 증가할수록 감소한다.
- ② 포트폴리오를 구성할 때 국내 주식만으로 이루어진 것보다 국제시장으로 확대하면 포트폴리오의 위험을 감소시킬 수 있다.
- ③ 분산투자로 감소되는 위험은 기업 고유의 위험인 비체계적위험이지 시장위험은 아니다.
- ④ 선택된 자산들 간의 상관관계수가 1에 가까울수록 분산효과는 커진다.

187. 다음 중에서 CAPM(자본자산가격결정모형)이 적용될 수 있는 것을 모은 경우는?

- ㄱ. 주주들의 요구수익률을 알고 싶을 때
- ㄴ. 프로젝트의 경제성을 평가할 때
- ㄷ. 과대평가 혹은 과소평가된 주식을 선택할 때
- ㄹ. 자본비용을 추정할 때

- ① \neg
- ② \neg, \perp
- ③ \neg, \bot, \vdash
- ④ $\neg, \bot, \vdash, \text{귀}$

188. 다음의 옵션에 대한 설명 중 옳지 않은 것은?

- ① 옵션의 가격을 Premium이라 한다.
- ② 옵션의 매입자에게 기초 자산을 정해진 가격으로 팔 수 있는 권리를 풋옵션이라 한다.

- ③ 옵션의 매입자는 자신에게 불리할 경우 만기일에 옵션을 행사하지 않을 수 있다.
- ④ 최종 거래일(만기일)에만 권리 행사가 가능한 옵션을 아메리칸 옵션이라 한다.

189. 헤지거래에 대한 설명 중 가장 틀린 것은?

- ① 현물시장과 선물시장을 동시에 이용하여 이익을 얻고자 하는 거래이다.
- ② 선물시장에서 매도포지션을 매도해지, 반대로 매입포지션이면 매입해지이다.
- ③ 체계적 위험을 관리하기 위하여 주가지수선물을 이용할 수 있다.
- ④ 가격변동위험을 제거하거나 줄이는 기법이다.

190. 다음 중 주가가 크게 오르면 손실이 무한대로 갈 수 있는 Position은?

- ① Call Option 매수 ② Call Option 매도
③ Put Option 매수 ④ Put Option 매도

<투자론>

191. 다음 중 일정한 기간이 경과한 후 미리 정해진 가격으로 동일 채권을 다시 매수 또는 매도하는 조건으로 매매하는 채권은?

- ① 주식예탁증서(DR) ② 통화안정증권
- ③ 회사채 ④ 환매조건부채권(Repo)

192. 한국 기업의 주식을 외국 증권시장에서 직접 거래하는 경우에 발행하는 유통상의 문제점을 해결하기 위해 예탁기관이 주식을 보관하고 보관된 주식 대신 발행하여 유통시키는 대체증권은?

- ① CD ② 주식예탁증서(DR)
③ 통화안정증권 ④ 회사채

193. 다음은 증권회사의 고유 업무를 나열한 것이다. 이에 해당하지 않는 것은?

- ① 자기매매업무 ② 신용공여업무
③ 인수·주선업무 ④ 위탁매매업무

- ① 유상증자
- ② 무상증자
- ③ 신주인수권부사채의 신주인수권이 행사되는 경우
- ④ 교환사채의 교환권이 행사되는 경우

① 가격반전현상 ② 과대평가현상
③ 시장이레현상 ④ 투기현상

① 약형 효율적 시장가설 ② 준강형 효율적 시장가설
③ 강형 효율적 시장가설 ④ 모든 종류의 효율적 시장 가설

① 파동이론 ② 케이오스 이론
③ 미시이론 ④ 다우이론

① ₩10,000 ② ₩11,000
③ ₩12,000 ④ ₩13,000원

- ① 선진국에서는 대개 4-6개월 정도로 주가가 경기를 앞서서 움직인다.
- ② 일반적으로 통화량이 증가하면 주가는 하락한다.
- ③ 이자율과 주가는 반대방향으로 움직인다.
- ④ 다른 조건이 일정하다면 국민소득의 증가는 주가의 상승을 가져온다.

[illegible][illegible]

① ₩9,519.8 ② ₩9,623.6
③ ₩9,816.7 ④ ₩10,423.8

① 수익실현의 장애 ② 기업의 채무불이행 가능성
③ 미래수익의 변동가능성 ④ 손실의 가능성

[illegible][illegible]

210. 다음 중 옳지 않은 것을 고르시오.

- ① 위험회피투자자의 효용함수는 원점에 대해 오목한 형태를 보인다.
- ② 위험회피투자자는 동일한 위험 하에서 기대수익률이 높은 투자안을 선택하고, 동일한 기대수익률 하에서는 위험이 낮은 투자안을 선택하는 원칙을 평균-분산 이론이라 한다.
- ③ 시장포트폴리오는 시장에서 거래되는 모든 위험자산을 포함한 포트폴리오를 의미한다.
- ④ 공분산은 두 자산의 수익률(확률변수)이 같이 움직이는 정도를 의미한다.

<경영학의 이해>

211. 다음 중, 경쟁법으로서의 공정거래법과 관련이 없는 항목 하나는?

- ① 상호출자금지 ② 출자총액제한
③ 부당내부거래 방지 ④ 여신규제

212. 협동조합의 효시는 다음 중 어느 것인가?

- ① 디트로이트 자동차 노동조합 ② 로치데일 소비조합
③ 데레사 소비조합 ④ 맨체스타 직물조합

213. 관리순환과 관계가 없는 활동은?

- ① 계획 ② 시장조사
③ 실행 ④ 조직화

214. 기업의 본질적 기능은?

- ① 생산 ② 종업원 교육
- ③ 사회적 책임 수행 ④ 주주의 이윤 창출

① 산업간 통합화 ② 지식과 정보의 가치증대
③ 가상공간의 활성화 ④ 조직의 수직계층화의 심화

[illegible]

① 우수인력 확보의 어려움 ② 과다경쟁

③ 자금조달의 제약 ④ 벤처정신의 결여

- ① 입지선정 ② 목표설정
- ③ 시장조사 ④ 규모결정

① 정책 ② 전략
③ 절차 ④ 동기화

① 최고경영층 - 개념적 스킬 ② 이사 - 인간관계적 스킬
③ 과장 - 개념적 스킬 ④ 부장 - 기술적 스킬